

1 次の文章を読み、以下の設問に答えよ。

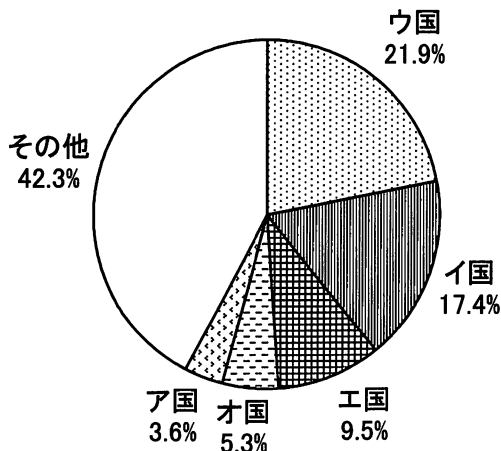
2010年5月1日から中国の(A)において万国博覧会(国際博覧会)が開かれた。国際的な条約では、万国博覧会は「複数の国が参加」し、「公衆の教育を主たる目的とする催し」と定義されている。この博覧会を開くには、開催を希望する国の政府が博覧会国際事務局に立候補し、国際的な承認を受ける必要がある。つまり万国博覧会を開催できる国は、ある程度の①経済発展をとげていることが、自他ともに国際的に認められていなければならない。かつて②日本も高度経済成長のさなか、吹田市において万国博覧会を開催したように、今回中国も自国の経済成長ぶりを、改めて全世界に向けて、広く発信したという大きな意味を持っているといえるであろう。2008年8月の北京オリンピックに続いて、(A)万博を成功させた自信をもとに、中華人民共和国は今後いっそうの経済成長を続け、21世紀の世界において③農業・④工業・⑤貿易など様々な分野において大きな影響を与えていくであろう。しかしその一方で⑥深刻な環境問題も発生している。

(1) 文章中の空欄(A)に当てはまる地名を漢字で答えよ。

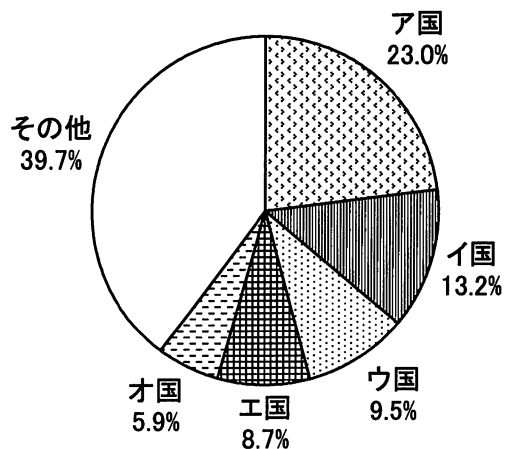
(2) 下線部①に関して、次のグラフは2000年度と2009年度における世界の自動車生産に占める主要国の割合をみたものである。ア国～オ国は、アメリカ合衆国、日本、ドイツ、韓国、中国のいずれかである。日本と中国をそれぞれ選べ。

(「世界国勢図会」2009/2010年度版、「トヨタの概況2010年」などより)

〈2000年度〉



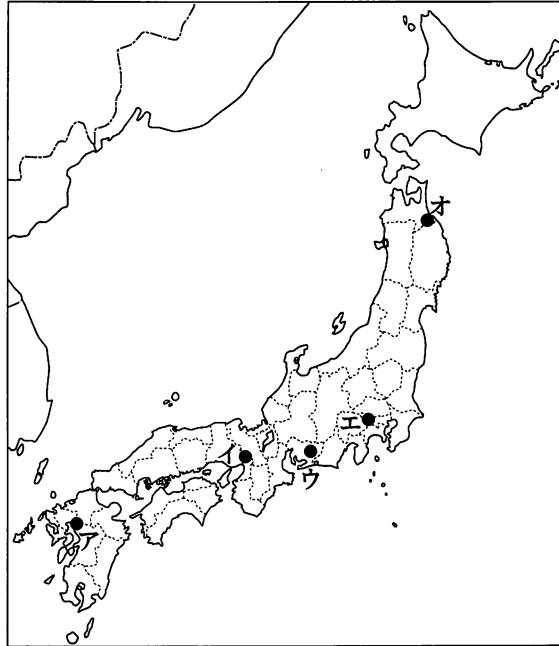
〈2009年度〉



(3) 下線部②に関して、高度経済成長当時の社会の様子を説明した文として正しいものを、次のア～エから一つ選べ。

- ア 産業構造が大きく変化し、第二次産業人口の割合が短時間で低下した。
- イ 地方から都市へ向かって人口が大規模に移動した。
- ウ 内陸部を中心に、重化学工業が発達した。
- エ 地方都市の郊外に住宅地開発が進められた。

(4) 下線部②に関して、「吹田市」の位置を、以下の日本地図中のア～オから一つ選べ。



(5) 下線部③に関して、次の地図は中国の農業分布を示したものである。

1. Xの領域で主に栽培されている作物の組み合わせとして、最も適当なものを次のア～カから一つ選べ。



- ア 米・とうもろこし
- イ 米・小麦
- ウ 米・さとうきび
- エ 小麦・綿花
- オ 小麦・こうりゃん
- カ 小麦・とうもろこし

2. 次の表は中国が世界生産上位5位までに入る作物の組み合わせである。作物は米・とうもろこし・小麦・大豆・じゃがいものいずれかである。大豆にあてはまるものを次のア～オから一つ選べ。

	生産上位国				
ア	中国 (7,204)	ロシア (3,678)	インド (2,628)	ウクライナ (1,910)	アメリカ (1,765)
イ	中国 (18,704)	インド (14,113)	インドネシア (5,705)	バングラデシュ (4,350)	ベトナム (3,557)
ウ	中国 (10,986)	インド (7,489)	アメリカ (5,360)	ロシア (4,939)	フランス (3,322)
エ	アメリカ (33,209)	中国 (15,197)	ブラジル (5,197)	メキシコ (2,250)	アルゼンチン (2,176)
オ	アメリカ (7,071)	ブラジル (5,820)	アルゼンチン (4,550)	中国 (1,560)	インド (943)

※単位は万t

※統計年度は2007年

(『世界国勢図会』2009/2010年度版より)

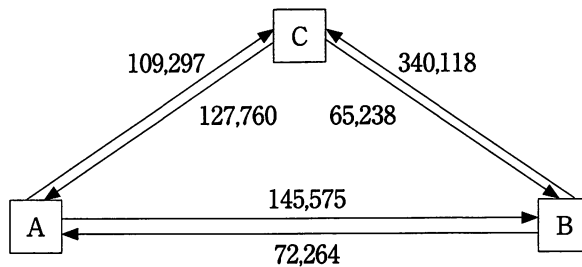
3. 次の文章中の空欄 (B)・(C)に最も適当な語句を漢字で記入せよ。

中国においては、農民は一定量の農業生産を行い、政府に納めるが、それ以外の農作物は自由に売買してよい (B) という制度が導入された。その結果、経済的に豊かになった農家は (C) とよばれた。

(6) 下線部④に関して、中国の工業化の歴史や現状について述べた次の文のうち、誤っているものを次のア～エから一つ選べ。

- ア 華南地方には5ヶ所の経済特区が設置され、外国企業の進出を優遇している。
- イ 石油・石炭・鉄鉱石の生産が多く、いずれも自給でき輸入はされていない。
- ウ かつて満州とよばれた中国東北部は、戦時中は日本によって半植民地化され、重工業が早くから発達した。
- エ 郷鎮企業とよばれる地方企業の生産額が増加している。

(7) 下線部⑤に関して、次の図は中国・日本・アメリカの三国間における貿易額を示したものである。三国の正しい組み合わせを次のア～カから一つ選べ。



※単位は百万ドル（『世界国勢図会』2009/2010年度版による）

	A	B	C
ア	中国	日本	アメリカ
イ	中国	アメリカ	日本
ウ	日本	中国	アメリカ
エ	日本	アメリカ	中国
オ	アメリカ	中国	日本
カ	アメリカ	日本	中国

(8) 下線部⑥に関して、中国で起こっている環境問題として、ふさわしくないものを次のア～オから一つ選べ。

- ア 酸性雨
- イ 熱帯林の破壊
- ウ 砂漠化
- エ 大気汚染
- オ 水質汚濁

2

次のⅠ～Ⅳの文章を読み、以下の設問に答えなさい。

【Ⅰ】

日本で米作りが本格化した時代の頃、①世界各地では高度な文明が発達していた。中国の歴史書によると日本はまだ倭(倭国)とよばれていた。②奈良県桜井市の周辺は、この時代末期に倭(倭国)をある程度統一した国が存在した、有力な候補地として知られている。

- (1) 下線部①に関して、日本で米作りが本格化した時代におこった世界のできごととして正しい文を次のア～エから一つ選べ。
- ア インド北部で、人間の平等を説いて、シャカが仏教をおこした。
- イ 戦国の争いを統一し、秦の始皇帝が中国を統一した。
- ウ アラビア半島で、ムハンマドが一神教のイスラム教をおこした。
- エ エジプトで、巨大な神殿やピラミッドが築かれはじめた。
- (2) 下線部②に関して、^{まきむく}纏向遺跡にある^{はしはか}箸墓古墳は、ある人物の墓という説がある。誰のことか漢字で答えよ。

【Ⅱ】

③藤原氏は天皇家と深い結びつきを持ちながら、古代日本の政治に大きく関わってきた。多くの分家が生まれ、政治だけでなく武芸や④和歌の分野に活躍した藤原氏も出た。現在も冷泉家などが藤原氏の子孫として知られている。

- (3) 下線部③に関して、正しい文を次のア～エから一つ選べ。
- ア 中臣鎌足は中大兄皇子とともに、大伴氏を滅ぼした大化改新の中心となり、のち藤原氏の祖となった。
- イ 大仏造立を行ったことで知られる聖武天皇は、藤原氏の娘を皇后に迎えていた。
- ウ 藤原道長は浄土信仰に没頭し、京都宇治に平等院鳳凰堂を建てた。
- エ 藤原頼通は「この世をばわが世とぞ思う望月の かけたることも なしと思えば」という歌をよみ、摂関政治の全盛期を満月にたとえた。
- (4) 下線部④に関して、鎌倉時代に藤原定家が中心になって編纂したとされる和歌集は何か。漢字で答えよ。

【Ⅲ】

中世に⑥ヨーロッパでルネサンスがおこった頃、日本では⑥室町文化が栄えた。日本にもヨーロッパからの来航船があり、キリスト教や鉄砲がもたらされ、それらは後の日本に大きな影響を与えた。

(5) 下線部⑤に関して、ルネサンスについて述べた次の文aとbの正誤の組み合わせとして正しいものを、次のア～エから一つ選べ。

a レオナルド＝ダ＝ビンチの「モナ＝リザ」やミケランジェロの「ダビデ像」など数多くの傑作が生み出された。

b コペルニクスやガリレオ＝ガリレイによって天動説が唱えられた。

ア a－正 b－正

イ a－正 b－誤

ウ a－誤 b－正


エ a－誤 b－誤

(6) 下線部⑥に関して、室町幕府8代将軍足利義政が京都東山に建てた山荘が有名である。それを次のア～エの写真から一つ選べ。

ア




イ



ウ



エ



【IV】

1931年に満州事変がおこると、日本では軍部の政治干渉が強くなり、その後は⑦日中戦争、太平洋戦争と突き進んでいった。1945年に終戦を迎えた後、⑧民主化の改革が進められ、⑨ソ連や中国など周辺国との国交も順次正常化していった。

- (7) 下線部⑦に関して、この時期の出来事として正しいものはどれか、次のア～エから一つ選べ。
- ア 五・一五事件で犬養首相が殺害された。
 - イ 米騒動がおこった。
 - ウ 普通選挙法が制定された。
 - エ 国家総動員法が制定された。
- (8) 下線部⑧に関して、民主化の例として誤っているものを次のア～エから一つ選べ。
- ア 財閥解体が行われ、独占禁止法が作られた。
 - イ 農地改革が進められ、多くの自作農民が小作農民になった。
 - ウ 地方公共団体に教育委員会が設置された。
 - エ 戦時中は解散させられていた労働組合が相次いで復活した。
- (9) 下線部⑨に関して、1949年に中華人民共和国が成立してから、1972年に日中共同声明で国交が正常化するまで約20年以上の時間が経過している。なぜこのように時間がかかったのか、簡単に説明しなさい。

3 次のⅠ・Ⅱの文章を読み、あとの問いに答えよ。

【Ⅰ】戦後の日本では民主化のため、それまでの①大日本帝国憲法を改正し、国民主権・②基本的人権の尊重・平和主義を原則とする、日本国憲法が公布・施行された。日本国憲法は国の最高法規であるため、かんたんに改正されないように、きびしい③改正手続きをとっている。

(1) 下の表は、大日本帝国憲法と日本国憲法を比較したものである。(A) ～ (C) にあてはまる語句を答えよ。

大日本帝国憲法		日本国憲法
天皇主権の (A) 憲法	性格	国民主権の民定憲法
国の元首	天皇	国の (B)
法律の範囲内でのみ国民の自由や権利を認める	国民の権利	永久不可侵の基本的人権を保障
兵役・納税の義務	国民の義務	(C) ・納税・教育の義務

(2) 下線部①に関して、大日本帝国憲法は、ヨーロッパのどこの国の憲法を手本としたか、ア～エから一つ選べ。

- ア イギリス イ フランス ウ ドイツ エ アメリカ

(3) 下線部②の基本的人権に関する記述として誤っているものを次のア～エから一つ選べ。

- ア 人権思想は、イギリスの「権利の章典」やフランスの「人権宣言」のような宣言などによって確立されていった。
- イ 労働者が使用者と対等の立場で交渉できるように、すべての労働者の団結権・団体交渉権・争議権が認められている。
- ウ 人の名誉をきそんする行為の禁止、独占禁止法による財産権の制限など公共の福祉のために人権が制限されることもある。
- エ 今日、新しい人権として、環境権などが積極的に主張されるようになり、環境アセスメントもおこなわれるようになった。

(4) 下線部③に関して、憲法改正の手続きについて述べた次の文aとbの正誤の組み合わせとして正しいものを、次のア～エのうちから一つ選べ。

- a 衆議院・参議院の各院において出席議員の3分の2以上の賛成で国会が憲法改正を發議する。
- b 国民投票により、有効投票の過半数の賛成が得られれば、天皇が国民の名で公布する。

- ア a - 正 b - 正 イ a - 正 b - 誤
- ウ a - 誤 b - 正 エ a - 誤 b - 誤

【Ⅱ】2009年8月に自民党と民主党による政権交代が実現し、鳩山由紀夫内閣が発足した。鳩山内閣は当初高い支持率を得ていたが、④「政治とカネ」の問題や⑤普天間基地移設問題などを理由に退陣し、新たに菅政権が発足した。その菅政権も2010年7月の⑥参議院選挙では苦戦を強いられ、再び⑦ねじれ状態となった。

(5) 下線部④のような問題が起こらないために、中立的な立場から調査する人や委員会を置いて、市政を監視する制度のことを何というか、カタカナで答えよ。

(6) 下線部⑤に関して、沖縄がアメリカ合衆国から返還された後に起こったできごとを次のア～エからすべて選べ。

ア 日米安全保障条約調印

イ 香港の中国返還

ウ 東西ドイツ統一

エ 朝鮮戦争が始まる

(7) 下線部⑥に関して、日本の選挙制度に関する記述として誤っているものを次のア～エから一つ選べ。

ア 1890年に第1回総選挙が行われたが、そのときの有権者は、25歳以上の男子で、直接国税15円以上を納める者に限られていた。

イ 国会議員および地方議会議員は、国民の直接選挙で選ばれることになっており、これらの選挙は公職選挙法に基づいておこなわれる。

ウ 現在のわが国の選挙制度は、普通選挙・平等選挙・秘密選挙・任意選挙が原則とされている。

エ 衆議院議員・都道府県知事の被選挙権年齢は満25歳以上であるが、参議院議員に関しては満30歳以上となっている。

(8) 下線部⑦に関して、衆議院と参議院の議決が異なるとき、意見の一致をはかる機関を何というか答えよ。